

# JUNTA DE EXTREMADURA

Consejería de Educación y Empleo.

Dirección General de Formación Profesional y Formación para el Empleo

Grado Superior: DIBUJO. Parte Específica.

## PRUEBAS DE ACCESO A CICLOS FORMATIVOS DE GRADO SUPERIOR.

Resolución de 6 de Mayo de 2020. Fecha: 16 de junio de 2020

### DATOS DEL ASPIRANTE

Apellidos: .....

Nombre ..... DNI.....

I.E.S. de Inscripción

I.E.S. de Realización:

### CALIFICACIÓN.

Dos decimales.

### Instrucciones:

Mantenga su DNI en lugar visible durante la realización del ejercicio.

Grape todas las hojas de respuestas que correspondan a esta prueba junto a esta hoja u hojas de examen.

Lea detenidamente los enunciados de los ejercicios antes de comenzar su resolución.

Duración 85 minutos.

### PRUEBA DE DIBUJO. (ESPECÍFICA) B1

#### EJERCICIO 1:

CONSTRUIR UN TRIÁNGULO, DADO UN VÉRTICE A, EL ÁNGULO EN A=75° Y LOS LADOS ADYACENTES AB=75 Y AC=60 MM. OBTENER EL ORTOCENTRO.

A<sup>+</sup>

# JUNTA DE EXTREMADURA

Consejería de Educación y Empleo.

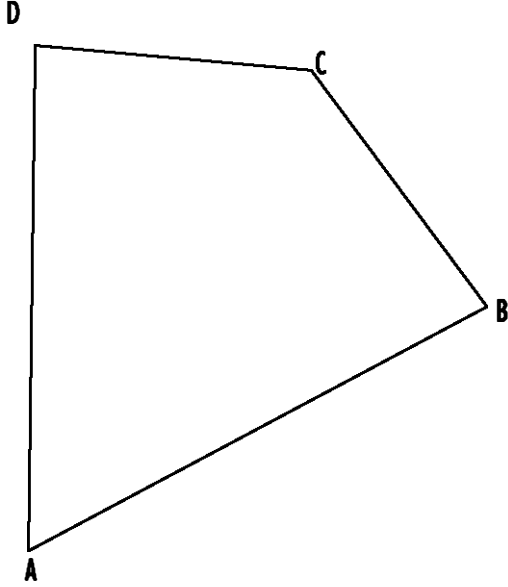
Dirección General de Formación Profesional y Formación para el empleo

Grado Superior: DIBUJO. Parte Específica.

---

EJERCICIO 2:

OBTENER LA SEMETRIA CENTRAL DE LA FIGURA DADA RESPECTO DEL PUNTO O.



+

0

# JUNTA DE EXTREMADURA

Consejería de Educación y Empleo.

Dirección General de Formación Profesional y Formación para el Empleo

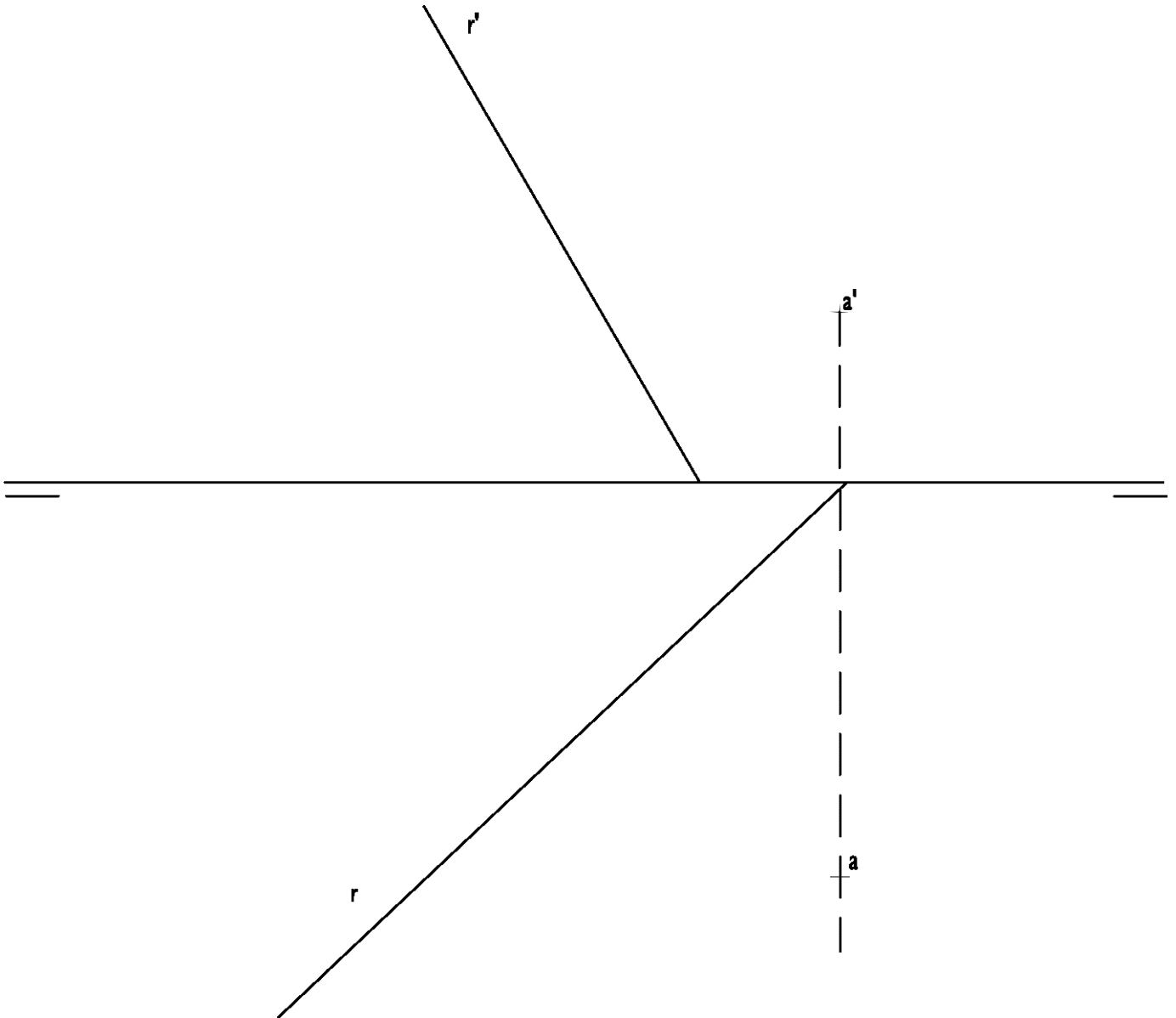
Grado Superior: DIBUJO. Parte Específica.

EJERCICIO 3:

DADO EL PUNTO A POR SUS PROYECCIONES Y LA RECTA R,

1º TRAZAR UN PLANO P QUE PASE POR A Y SEA PERPENDICULAR A LA RECTA R.

2º OBTENER LA INTERSECCIÓN DE LA RECTA CON EL PLANO P.



# JUNTA DE EXTREMADURA

Consejería de Educación y Empleo.

Dirección General de Formación Profesional y Universidad

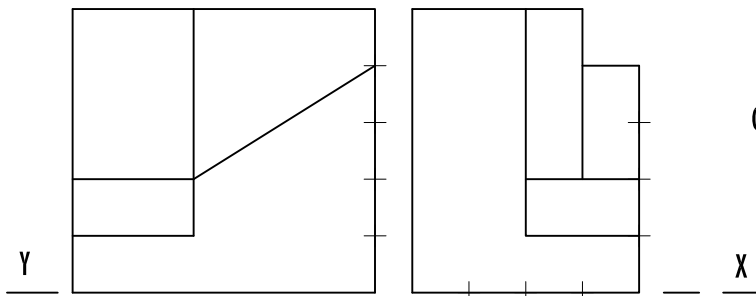
Grado Superior: DIBUJO. Parte Específica.

EJERCICIO 4:

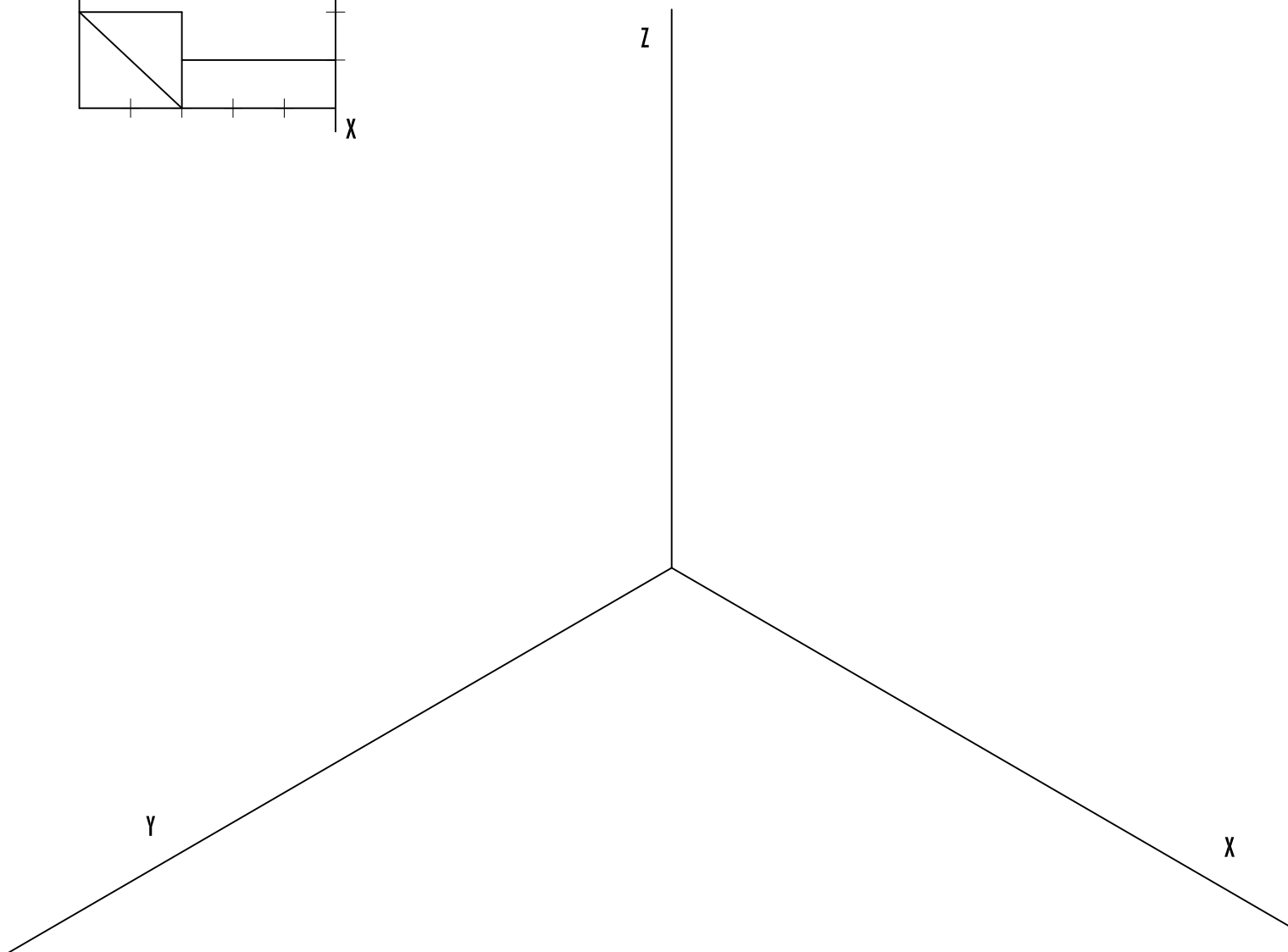
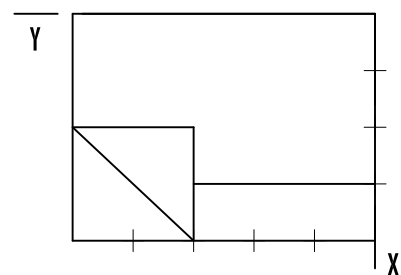
DADA LA PIEZA POR SUS PROYECCIONES DIÉDRICAS, REALIZAR UNA PERSPECTIVA ISOMÉTRICA A E:2/1,

NOTA: NO APLICAR COEFICIENTES DE REDUCCIÓN).

Z | | Z



COTAS DE LAS PROYECCIONES DIÉDRICAS E. 1:1



# JUNTA DE EXTREMADURA

Consejería de Educación y Empleo.

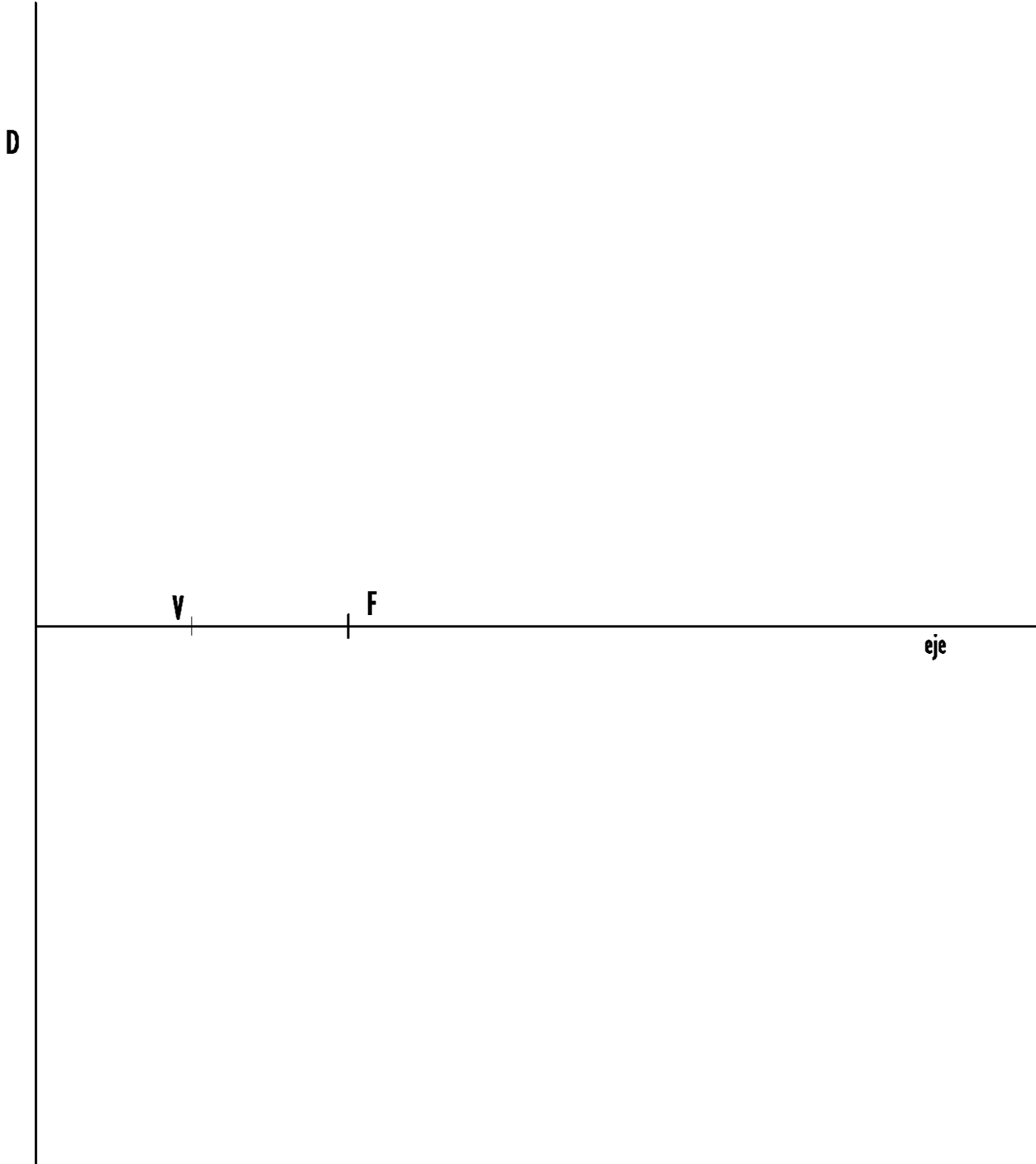
Dirección General de Formación Profesional y Formación para el Empleo

Grado Superior: DIBUJO. Parte Específica.

---

EJERCICIO 5:

DIBUJAR UNA PARÁBOLA DADA LA RECTA DIRECTRIZ, EL EJE, FOCO Y VÉRTICE.



**Criterios de calificación:**

La puntuación total de los cinco ejercicios será de 10 puntos. Cada uno se valorará con un máximo de 2 puntos. la puntuación de cada ejercicio estará determinada por los criterios siguientes:

- La solución correcta y la idoneidad del proceso seguido.
- La destreza, seguridad en el trazo, ausencia de tachaduras y calidad del dibujo.